

ІСТОРІЯ УКРАЇНИ

ВАРІАНТ 1

ІСТОРІЯ УКРАЇНИ (ДРУГА ПОЛОВИНА XVI – ПОЧАТОК XXI ст.)

Завдання 1–20 мають по чотири варіанти відповіді, з яких лише один правильний.
Виберіть правильний, на Вашу думку, варіант відповіді й позначте його

1. Подія української історії, наслідки якої Михайло Грушевський оцінив наступним чином:
«внесла роздвоєння серед православних і їх енергію обернула на внутрішню боротьбу».

- А Люблінська унія
- Б Брестська унія
- В «Пункти для заспокоєння руського народу»
- Г «Ординація Війська Запорозького»

2. Подія, учасником якої був зображений на портреті діяч:

- А Хотинська битва
- Б Заснування першої відомої Січі на о. Мала Хортиця
- В укладання Куруківської угоди
- Г Зборівська битва



3. Історико-культурна пам'ятка, пов'язана з діяльністю національно-релігійного громадського об'єднання українських православних міщан XVI – XVIII ст. у Львові:




А



Б



В



Г

4. Укажіть рік, в якому відбулася битва, опис якої подано в уривку «Літопису Самовидця»:
«А король стоял под Берестечком, и там всі войска з посполитим рушеніем зоставали. Где притягши гетман Хмельницькій першої неделі Петрова посту, дали бой слушній войску королевскому».

- А 1648
- Б 1649
- В 1651
- Г 1653

5. Наслідком Корсунської угоди 1669 р. було:

- А Поділ Гетьманщини по Дніпру між Московією та Річчю Посполитою
- Б Визнання Лівобережної Гетьманщини володіннями московського царя
- В Утворення Великого князівства Руського у складі Речі Посполитої

Г Прийняття Правобережною Гетьманщиною протекторату Туреччини

6. Назвіть подію, якій Т. Шевченко присвятив наступні рядки:

*«Давно те минуло, як, мала дитина,
Сирота в ряднині, я колись блукав,
Без свити, без хліба, по тій Україні,
Де Залізняк, Гонта з свяченим гуляв.
Давно те минуло, як тими шляхами,
Де йшли гайдамаки, малими ногами...»*

- А «Коліїщина»
 Б «Київська козаччина»
 В «Весна народів»
 Г «Похід у Таврію за волею»

7. Діяльність освітнього товариства галицьких греко-католицьких священників, «Руської трійці», створення Головної Руської Ради – це:


- А Причини ліквідації кріпацтва на території Західної України
 Б Передумови революції 1948 р. в Австрійській імперії
 В Наслідки поділів Речі Посполитої
 Г Прояви національного відродження на західноукраїнських землях

8. Визначте дату таємного розпорядження, підписаного імператором Олександром II, що забороняло: друкувати українською мовою оригінальні та перекладні твори, завозити українські книги, надруковані за кордоном, ставити українські вистави, влаштовувати концерти українських пісень:

- А 1861
 Б 1863
 В 1876
 Г 1881

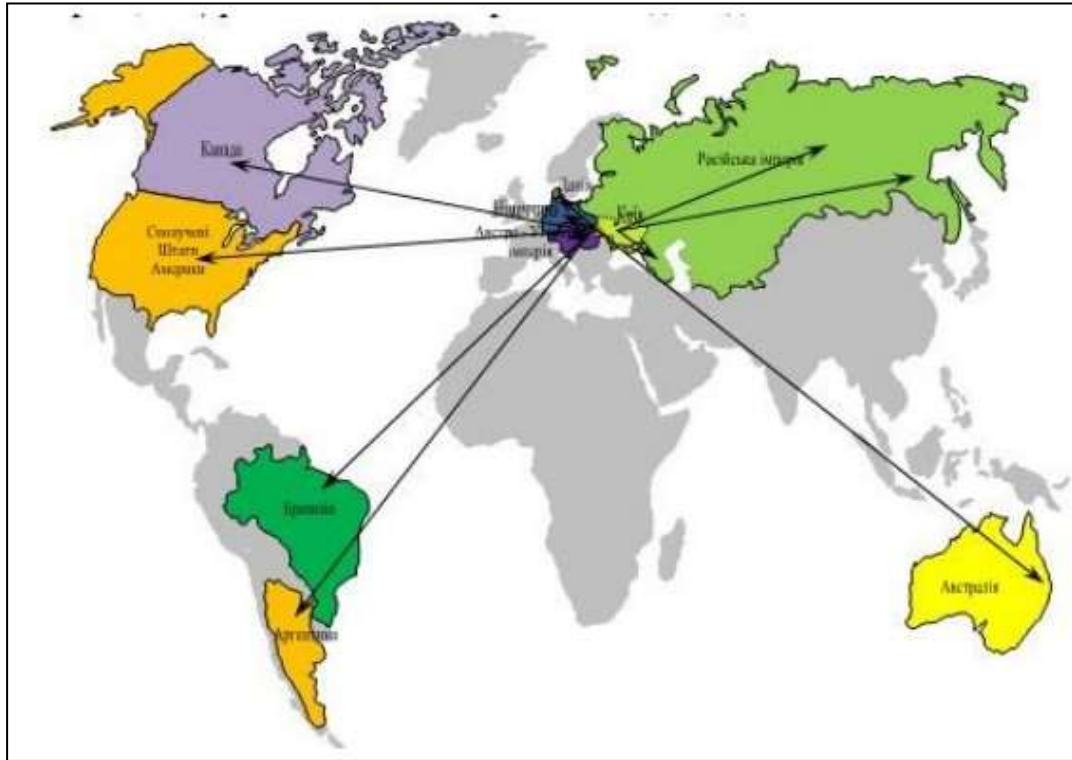
9. Упізнайте портрет відомого українського церковного діяча, духовного лідера свого часу, якого ще за життя називали «українським Мойсеєм»:

«Працював усе життя й давав великі гроші на те, щоб пам'ятки нашої давньої культури врятувати перед знищенням, розуміючи добре, що вони джерелом сили народу, бо виховують любов до рідного минулого [...] заснував на власні кошти «Національний Музей» [...] у Львові...».



- А Б В Г

10. Позначте процес кінця XIX ст. – початку XX ст., який ілюструє мапа:



- А Трудова еміграція українського селянства
- Б Створення українських монополій і встановлення торговельних відносин
- В Поява українських політичних партій
- Г Допомога українцям під час світової економічної кризи

11. Наміри скасування приватної власності на поміщицькі, церковні землі, встановлення 8-годинного робочого дня і державного контролю над виробництвом, припинення війни містяться в:

- А Першому Універсалі Центральної Ради
- Б Третьому Універсалі Центральної Ради
- В Четвертому Універсалі Центральної Ради
- Г Тимчасовій інструкції Генеральному Секретаріатові Тимчасового уряду України

12. Один із більшовицьких лідерів Л. Троцький зазначав:

«Ні для кого не є секретом, що не Денікін змусив залишити нас кордони України, а грандіозне повстання, яке підняло проти нас українське селянство, в якому прокинувся дух запорізького козацтва та гайдамаків, який спав сотні років. Це страшний дух, який кипить, як сам Дніпро на своїх порогах і змушує українців творити дива хоробрості». Назвіть причину спротиву українців більшовикам у період Української революції

- А Нова економічна політика
- Б Політика «воєнного комунізму»
- В «Білий терор»
- Г Вступ Української СРР до СРСР

13. Після Першої світової війни територія Східної Галичини остаточно була включена до складу Польщі внаслідок:

- А Варшавської угоди
- Б Ризького договору
- В Бессарабського протоколу
- Г Рішення Ради послів країн Антанти

14. Поява в УСРР поданого агітаційного плакату зумовлена проведенням більшовиками:



Автор Н. Терпсіхоров, 1930 р.

Текст плакату:

«З усім інвентарем до колгоспу вступай, не риж свою худобу, не продавай»

- А політики коренізації
- Б форсованої індустріалізації
- В суцільної колективізації
- Г нової економічної політики

15. Назвіть термін, пов'язаний із подією, відображеною на світлині:



- А Голокост
- Б Пацифікація
- В Великий терор
- Г Колабораціонізм

16. Посуха, повоєнна розруха, колосальна нестача чоловічих рук у селі, припинення постачання продовольства із США в рамках ленд-лізу, нереальні

норми хлібоздачі – це причини голоду в Україні:

- А 1921–1923 рр.
- Б 1932–1933 рр.
- В 1946–1947 рр.
- Г 1962–1964 рр.

17. 19 лютого 1954 р. Президія Верховної Ради СРСР видала указ, яким Кримська область була передана зі складу Російської РФСР до Української РСР. Це було зумовлено:

- А Бажанням М. Хрущова заручитися підтримкою української партійної верхівки
- Б Бажанням вищого державно-партійного керівництва підкреслити дружбу двох «братських

народів»

В Доцільністю економічного відновлення постраждалих та заселення знелюднених від війни та депортацій територій Українською РСР

Г Вдячністю українцям з боку державно-партійного керівництва за допомогу у перемозі в Другій світовій війні

18. Упізнайте на фото відомих українських діячів та визначте, до якого об'єднання вони належали:



А Клуб творчої молоді «Сучасник»

Б Українська Гельсінська група

В Українська робітничо-селянська спілка

Г Народний рух України за перебудову

19. Зображена національна валюта була введена в обіг за президентської каденції:



А Леоніда Кравчука

Б Віктора Януковича

В Леоніда Кучми

Г Віктора Ющенка

20. Назвіть подію, яка стала наслідком організованих українською владою протиправних дій, зображених на карикатурах:



- А Помаранчева революція
- Б Революція гідності
- В Анексія Криму
- Г Референдум і вибори Президента України 1991 р.

У завданнях 21–24 до кожного з чотирьох фрагментів інформації, позначених цифрою, доберіть один правильний, на Вашу думку, варіант, позначений буквою.

21. Установіть відповідність історичної особи та сфери її діяльності:

- | | |
|----------------------------|--------------------------|
| 1 Йов Кондзелевич | А Музика |
| 2 Феофан Прокопович | Б Образотворче мистецтво |
| 3 Артем Ведель | В Гравюра |
| 4 Іван Григорович-Барський | Г Архітектура |
| | Д Наука |

	А	Б	В	Г	Д
1					
2					
3					
4					

22. Установіть відповідність між громадською організацією та її цілями:

- | | |
|--|---------------------------------------|
| 1 «...Ця свобода є досяжною для нас і інших підкорених племен тільки при об'єднанні слов'ян в одну державу, засновану на повазі народності кожного» | А Русько-українська радикальна партія |
| 2 «Ціль наша – визволення цілої нації з московської неволі, створення Самостійної Української Держави... Наше покоління мусить створити свою українську національну ідеологію для боротьби за визволення нації і для створення держави» | Б Кирило-Мефодіївське братство |
| 3 «У справах суспільно-економічних змагаємо до переміни способу продукції згідно зі здобутками наукового соціалізму, тобто хочемо колективного устрою праці та колективної власності засобів продукційних. У справах політичних хочемо повної волі особи, слова, сходин, товариств, друку і сумління...» | В Товариство «Просвіта» |
| 4 «Кожний народ, що хоче добитися самостійності, мусить передусім дбати про те, щоби нижчі верстви суспільності, народні маси піднесли до тої степені просвіти, щоби ця народна маса почула себе членом народного організму, відчула своє міщанське й національне достоїнство й узнала потребу існування | Г «Руська трійця» |

	А	Б	В	Г	Д
1					
2					
3					
4					

23. Установіть відповідність між газетною статтею та явищем, яке вона відображає:



А Форсована індустріалізація

1 «Запаморочення від успіхів»



Б Коренізація

2 «Рік великого перелому»



В Суцільна колективізація

3 «Чорна дошка сіл, що саботують хлібозаготівлі»



Г Голодомор

4 «Українізація учительства»

Д Розкуркулення

	А	Б	В	Г	Д
1					
2					
3					
4					

24. Увідповідніть терміни та їх визначення:

- | | |
|--|--|
| <p>1 Прагнення спільнот, груп населення чи організацій до відокремлення, відособлення; рух за надання частині держави права автономії чи за її повне відокремлення й створення нової держави.</p> <p>2 Система різноманіття думок та вільного їх вираження в суспільстві</p> <p>3 Ідеологія та рух за співпрацю та взаєморозуміння між християнами різних конфесій</p> <p>4 Встановлена законом або рішенням суду заборона окремим фізичним особам обіймати певні посади в органах державної влади та місцевого самоврядування</p> | <p>А Екуменізм</p> <p>Б Корупція</p> <p>В Люстрація</p> <p>Г Сепаратизм</p> <p>Д Плюралізм</p> |
|--|--|

	А	Б	В	Г	Д
1					
2					
3					
4					

У завданнях 25–27 розташуйте події в хронологічній послідовності.

Цифри 1 має відповідати вибрана Вами перша подія, цифри 2 – друга, цифри 3 – третя, цифри 4 – четверта.

25. Розташуйте культурні пам'ятки у хронологічній послідовності відповідно до часу їх виникнення:



А



Б



В



Г

	А	Б	В	Г
1				
2				
3				
4				

26. Розташуйте описані події Української революції у хронологічній послідовності:

А «Ніде на всій Україні не зустрічали українського війська з таким ентузіазмом, з такими оваціями й таким захопленням, як робило це населення Сімферополя та інших зайнятих кримських місцевостей»

Б «На оборону цього надзвичайно важливого залізничного вузла командуючий військами отаман Капкан вислав Першу українську юнацьку військову школу імені гетьмана Богдана Хмельницького, у складі якої було чотири сотні – по 150 юнаків, 18 кулеметів та 20 старшин»

В «...Однині воєдино зливаються століттями відірвані одна від одної частини Єдиної України – ЗУНР (Галичина, Буковина, Закарпаття) і Наддніпрянська Велика Україна»

Г «Але найважливішою подією стало фактичне визнання УНР як незалежної держави – сторони-підписанта. На це з великим незадоволенням була змушена погодитись і більшовицька делегація на чолі зі Львом Троцьким, яка вела власні мирні переговори»

	А	Б	В	Г
1				
2				
3				
4				

27. Розташуйте події у хронологічній послідовності

А Революція на граніті

Б Створення Народного руху України за перебудову

В Ухвалення Верховною Радою УРСР Декларації про державний суверенітет України

Г Катастрофа на Чорнобильській АЕС

	А	Б	В	Г
1				
2				
3				
4				

Завдання 28–30 мають по сім варіантів відповідей, з яких лише три правильні. Виберіть і запишіть три цифри, що позначають правильні, на Вашу думку, відповіді.

28. Оберіть українських діячів, учасників громадського руху другої половини XIX ст.:

1 В. Антонович

2 І. Франко

3 О. Кониський

4 А. Шептицький

5 М. Вербицький

6 П. Чубинський

7 М. Костомаров

--	--	--

29. Оберіть з поданих особливості соціально-економічного розвитку УСРР у роки повоєнної відбудови:

1 Насамперед, відбудовувалась важка індустрія

2 Залучення іноземних інвестицій, план Маршалла

3 Виплата зарплат і пенсій колгоспникам

4 Експорт зерна за кордон

5 Підвищення врожайності с/г продукції в 1946–1947 рр.

6 Активне впровадження нових технологій і матеріалів

7 Гострою залишалась житлова проблема

--	--	--

30. Оберіть причини Революції гідності:

- 1 «Касетний скандал»
- 2 Згорання демократичних прав і свобод
- 3 Недопущення проведення референдуму в Криму
- 4 Тотальна корупція
- 5 Узурпація влади В. Януковичем та його сім'єю
- 6 Активізація російської армії на українських кордонах
- 7 Русифікація освіти та медіапростору

--	--	--

Блок історія України містить

20 завдань з вибором однієї правильної відповіді з чотирьох (0 або 1 бал)

4 завдання на встановлення відповідності (0, 1, 2, 3 або 4 бали)

3 завдання на встановлення послідовності (0, 1, 2 або 3 бали)

3 завдання з вибором трьох відповідей із семи запропонованих варіантів (0, 1, 2 або 3 бали)

Всього– 54.

Таблиця переведення тестових балів до рейтингової шкали

тестовий бал	оцінка 100-200	тестовий бал	оцінка 100-200
0 – 7	не склав	30	150
		31	151
8	100	32	152
9	105	33	154
10	111	34	156
11	116	35	158
12	120	36	160
13	124	37	163
14	127	38	166
15	130	39	168
16	132	40	169
17	134	41	170
18	136	42	172
19	138	43	173
20	140	44	175
21	141	45	177
22	142	46	179
23	143	47	181
24	144	48	183
25	145	49	185
26	146	50	188
27	147	51	191
28	148	52	194
29	149	53	197
		54	200

ВІДПОВІДІ З ІСТОРІЇ УКРАЇНИ

Варіант 1

- 1. Б. 2. А. 3. Б. 4. В. 5. Г. 6. А. 7. Г. 8. В. 9. В. 10. А. 11. Б. 12. Б. 13. Г. 14. В.
15. А. 16. В. 17. В. 18. Б. 19. В. 20. А**
- 21. 1-Б, 2-Д, 3-А, 4-Г. 22. 1-Б, 2-Д, 3-А, 4-В. 23. 1-В, 2-А, 3-Г, 4-Б. 24. 1-Г, 2-Д, 3-А, 4-В.**
- 25. ГАВБ. 26. БГАВ. 27. ГБВА.**
- 28. 1, 3, 6. 29. 1, 4, 7. 30. 2, 4, 5.**